



география

Контурные карты



класс

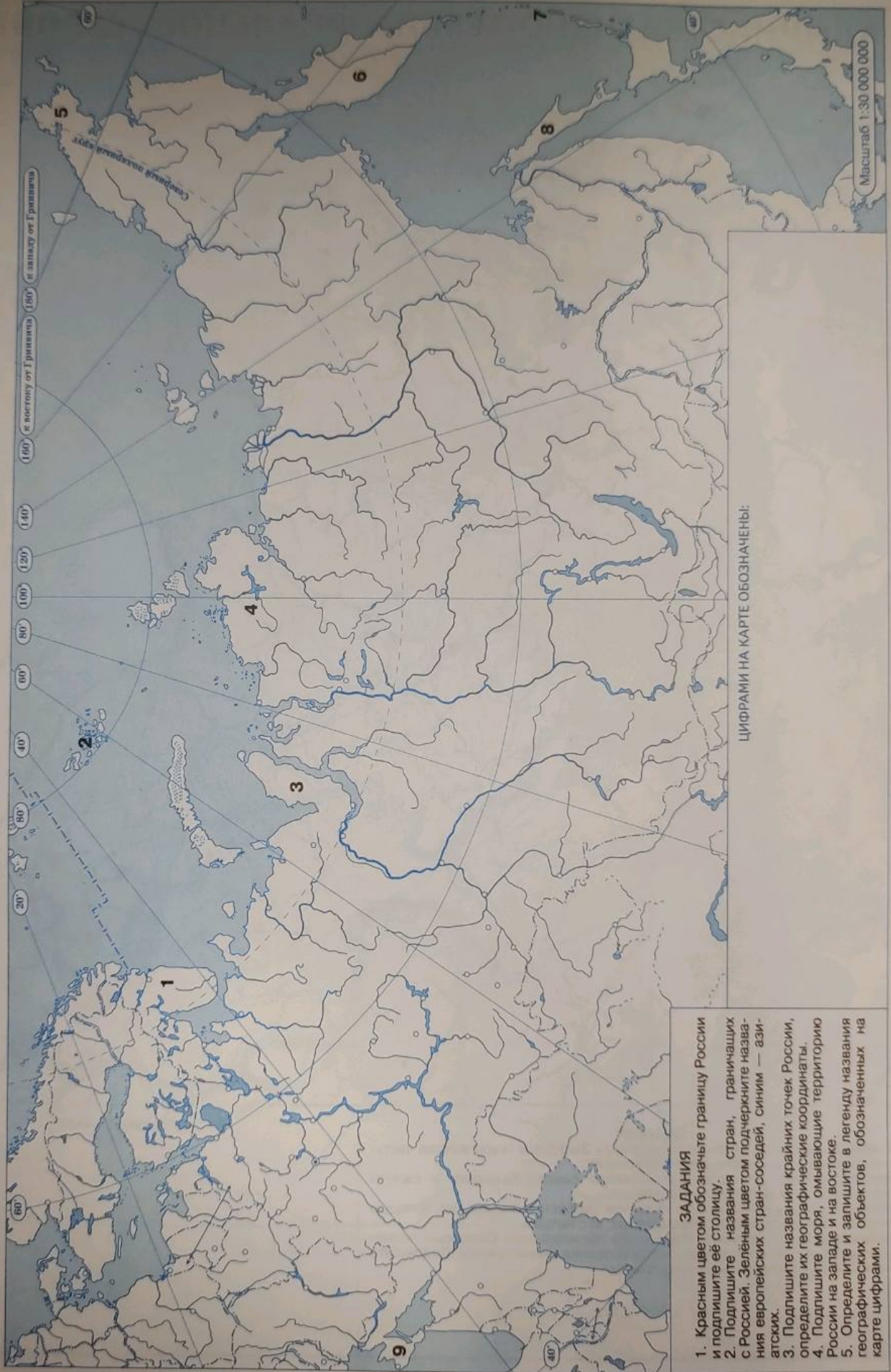
МОСКВА
«ПРОСВЕЩЕНИЕ»
2023

Класс _____

Фамилия _____

Имя _____

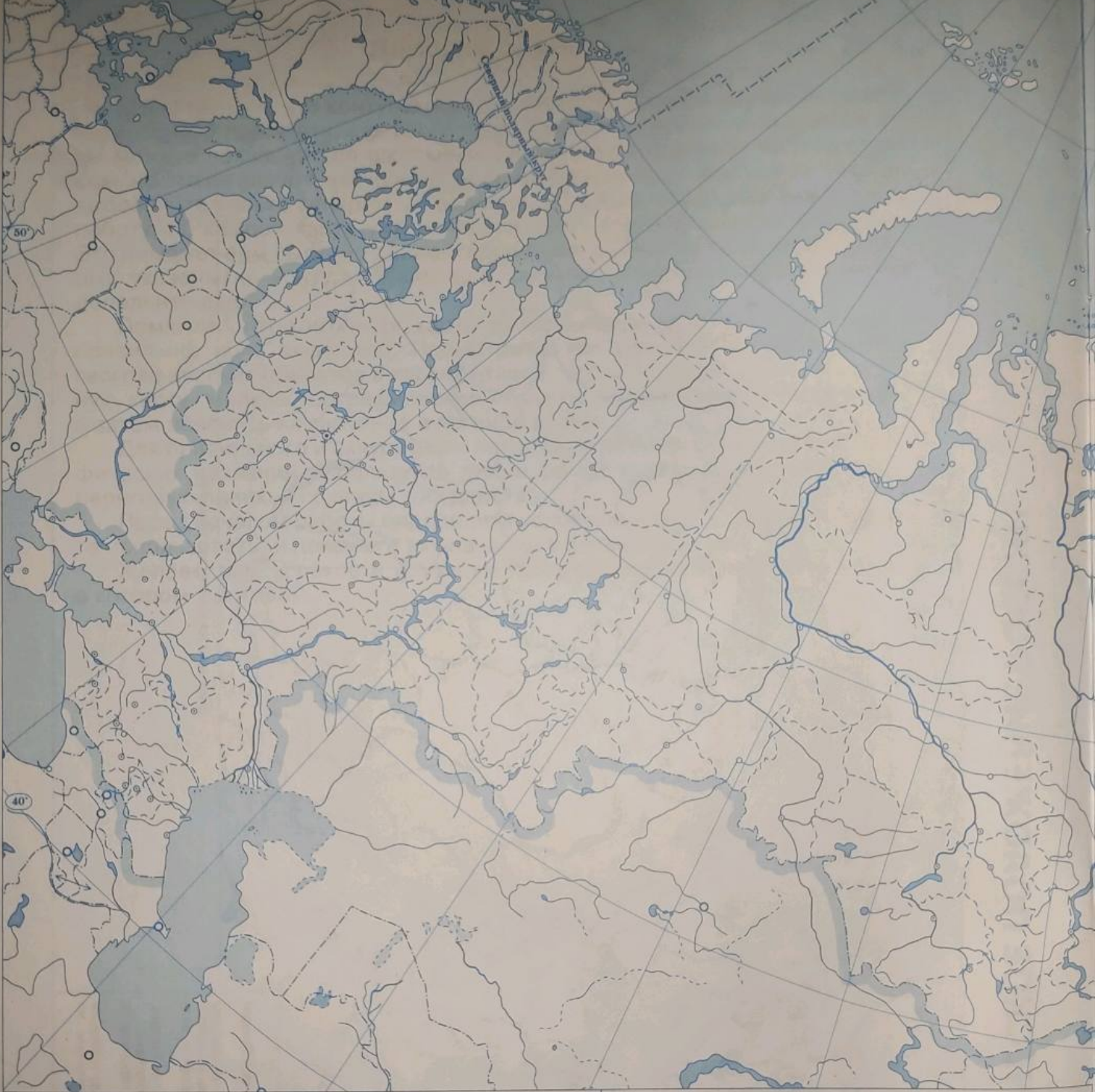
ГЕОГРАФИЧЕСКОЕ ПОЛОЖЕНИЕ РОССИИ



ЗАДАНИЯ

1. Красным цветом обозначьте границу России и подпишите её столицу.
2. Подпишите названия стран, граничащих с Россией. Зелёным цветом подчеркните названия европейских стран-соседей, синим — азиатских.
3. Подпишите названия крайних точек России, определите их географические координаты.
4. Подпишите моря, омывающие территорию России на западе и на востоке.
5. Определите и запишите в легенду названия географических объектов, обозначенных на карте цифрами.

АДМИНИСТРАТИВНО-ТЕРРИТОРИАЛЬНОЕ УСТРОЙСТВО



ЗАДАНИЯ

1. Обозначьте зелёным цветом границу между Западным (европейская часть) и Восточным (азиатская часть) макрорегионами.
2. Обведите границу и подпишите названия самого большого и самого маленького по площади субъекта Федерации.
3. Обведите границу и подпишите названия субъектов Федерации, которые граничат: а) с Белоруссией; б) с Казахстаном; в) с Китаем.
4. Определите, какие субъекты Федерации пересекаются Северным полярным кругом. Подпишите и подчеркните их названия синим цветом. Подпишите названия морей, к которым они имеют выход.

УСЛОВНЫЕ ЗНАКИ

РОССИИ

140°

180°

к востоку от Гринича, 180° к западу от Гринича

70°

60°

50°

40°

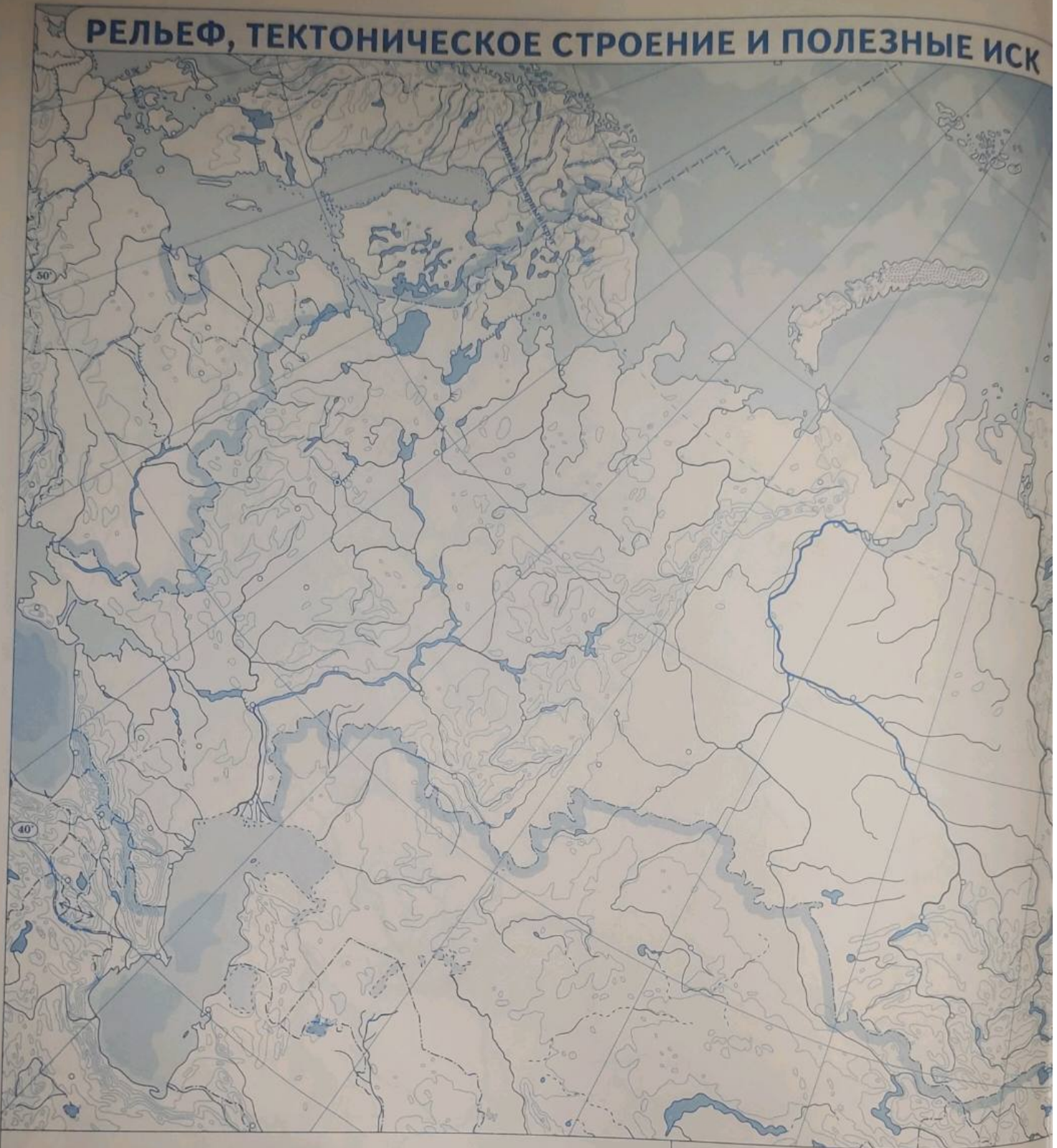
Масштаб 1:20 000 000

130°

3



РЕЛЬЕФ, ТЕКТОНИЧЕСКОЕ СТРОЕНИЕ И ПОЛЕЗНЫЕ ИСК



ЗАДАНИЯ

1. Подпишите на контурной карте названия крупнейших равнин России. Красным цветом подчеркните названия равнин, в основании которых залегает древняя платформа, зелёным — молодая платформа.
2. Подпишите на карте Балтийский, Алданский, Анабарский щиты и Воронежский массив.
3. Подпишите на карте по два-три примера горных систем, сформировавшихся в различных областях складчатости. Коричневым цветом подпишите название гор, сформировавшихся в герцинскую складчатость, оранжевым — в кайнозойскую, зелёным — в мезозойскую.
4. Обозначьте, подпишите значение и название самой высокой горной вершины нашей страны.
5. Специальным условным знаком отметьте на карте и подпишите названия трёх-пяти вулканов. Штриховкой обозначьте территории с высоким риском разрушительных землетрясений.

ОПАЕМЫЕ

140°

160°

к востоку от Гринвича (180°) к западу от Гринвича

70°

60°

30°

40°


Масштаб 1:20 000 000

110°

120°

130°

5



КЛИМАТИЧЕСКИЕ ПОЯСА И ОБЛАСТИ

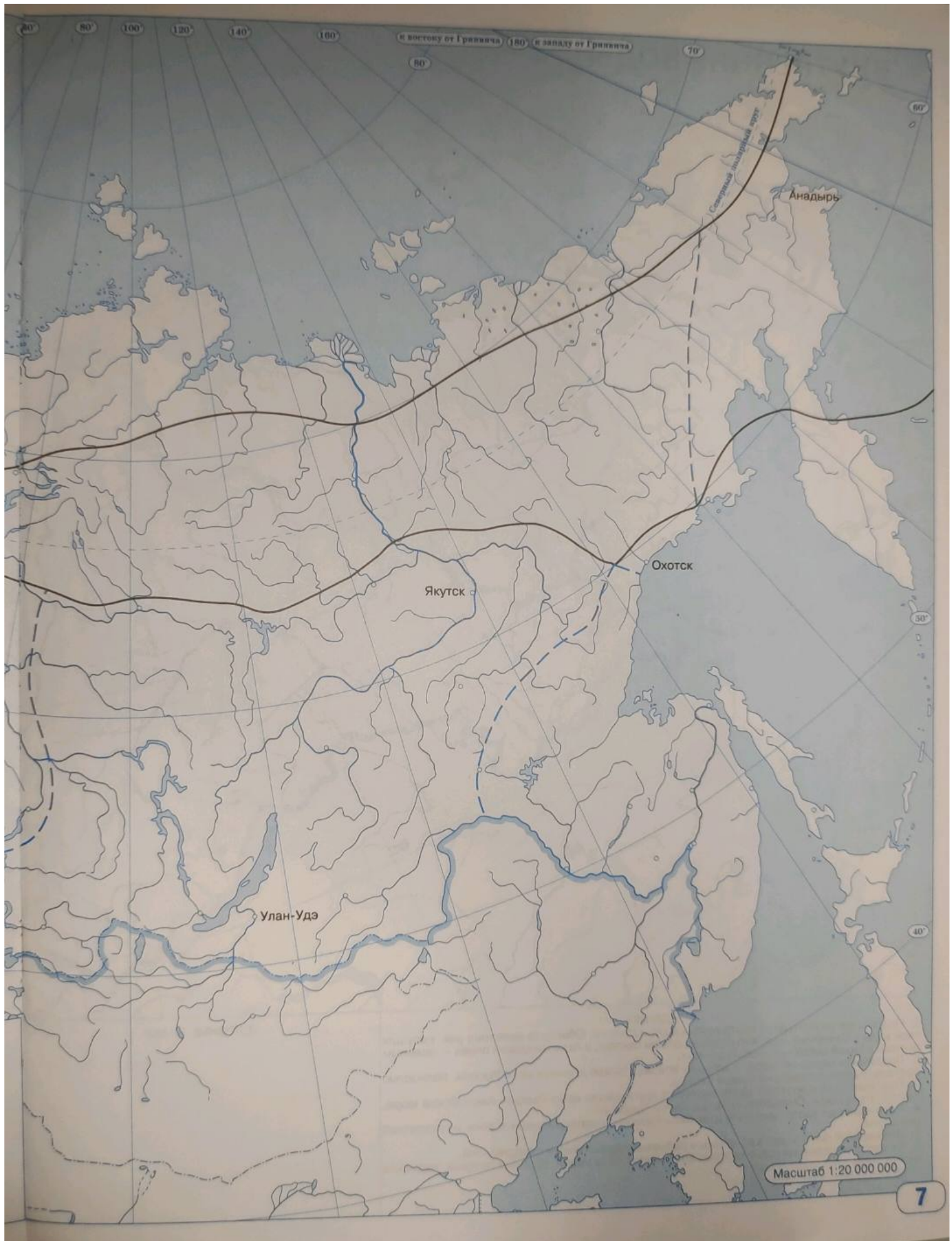


ЗАДАНИЯ

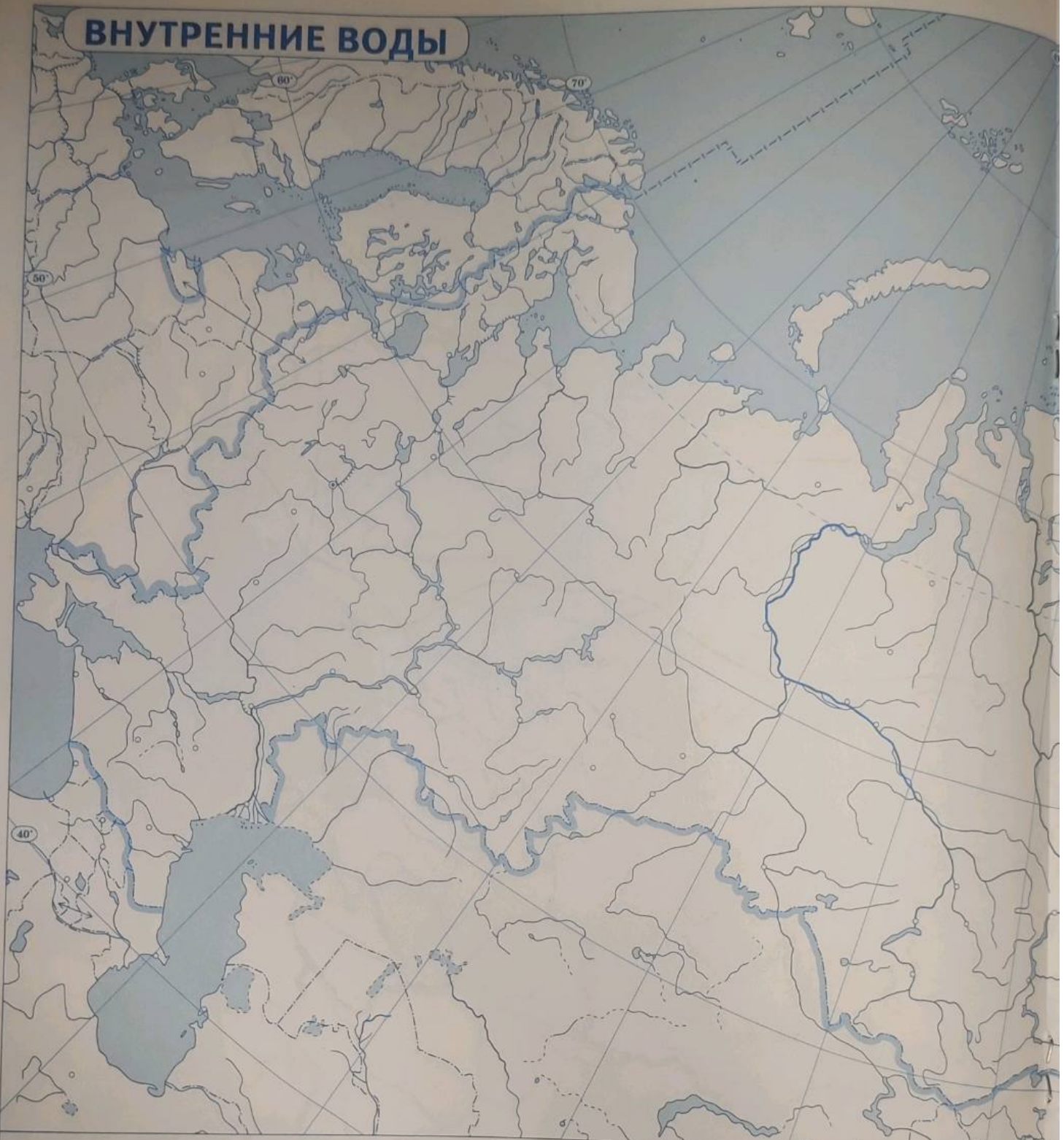
1. Подпишите названия климатических поясов и областей.
2. Штриховкой зелёного цвета обозначьте районы с максимальным количеством атмосферных осадков, а оранжевым — с минимальным.
3. Используя карты в атласе «Температура воздуха в январе», «Температура воздуха в июле», «Среднегодовое количество осадков», подпишите значения температур и осадков у обозначенных на карте городов. Подчеркните название города, в котором наибольшая годовая амплитуда температур.
4. Обозначьте на контурной карте свой населённый пункт, подпишите значения температур и осадков в нём.
5. Стрелками разных цветов обозначьте направления летнего и зимнего муссона.
6. Штриховкой красного цвета обозначьте районы пыльных бурь и частых засух.

УСЛОВНЫЕ ЗНАКИ

- Границы климатических поясов
- - - Границы климатических областей



ВНУТРЕННИЕ ВОДЫ



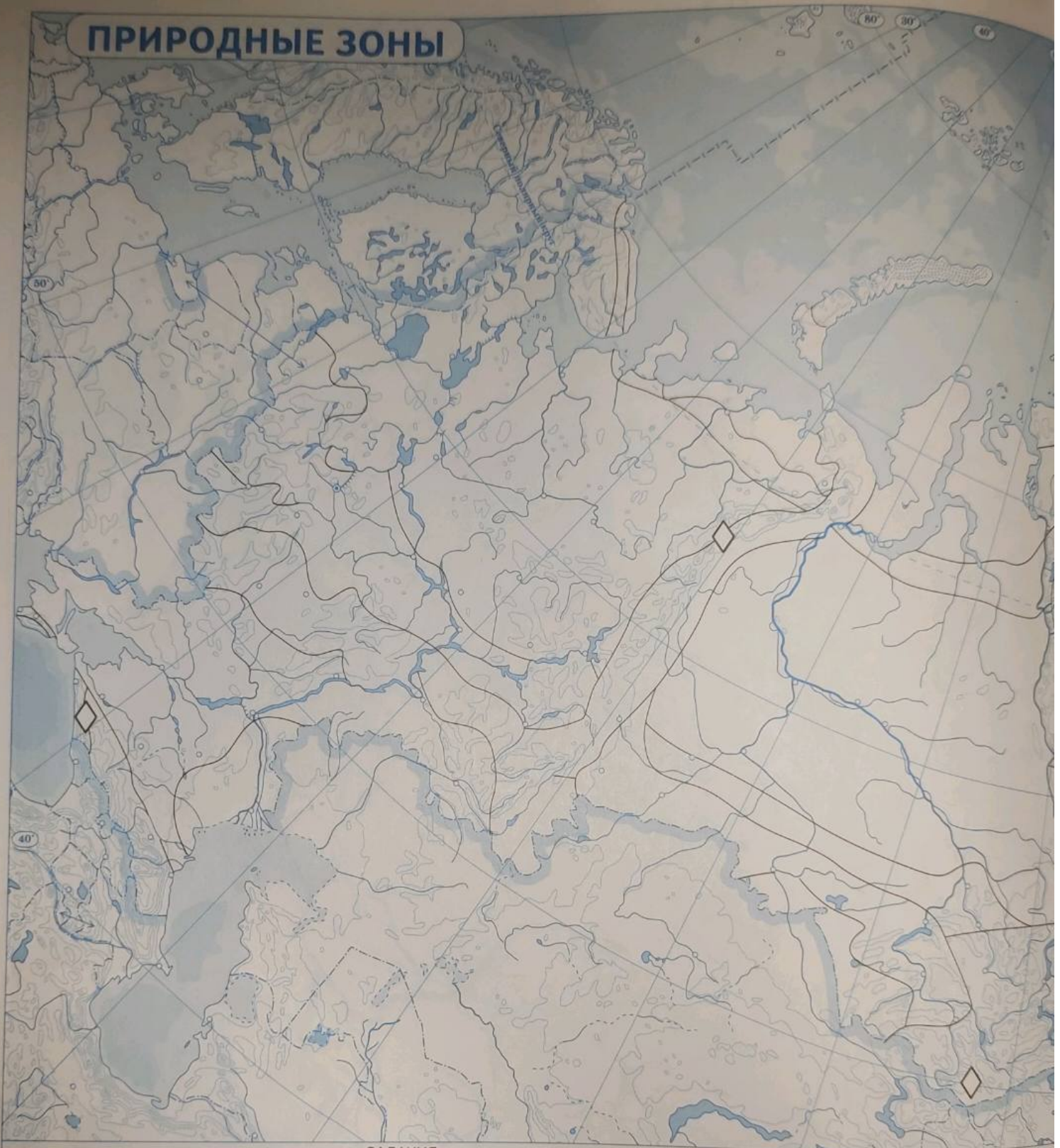
ЗАДАНИЯ

1. Подпишите на контурной карте крупные реки России. Обведите названия рек, несущих свои воды в Северный Ледовитый океан, синим цветом, в Атлантический океан — зелёным цветом.
2. Подпишите название моря, в которое впадает самая длинная река России, полностью протекающая по территории нашей страны.
3. Подпишите на контурной карте названия крупнейших озёр России: Каспийское море, Байкал, Ладожское, Онежское, Таймыр, Ханка, Чудское.
4. Подпишите на карте названия трёх-пяти городов, расположенных в зоне многолетней мерзлоты.
5. Штриховкой синего цвета обозначьте районы, подверженные наводнениям.
6. Подпишите названия гор, в которых возможны сходы лавин, селевых потоков, ледников и оползней.

УСЛОВНЫЕ ЗНАКИ



ПРИРОДНЫЕ ЗОНЫ

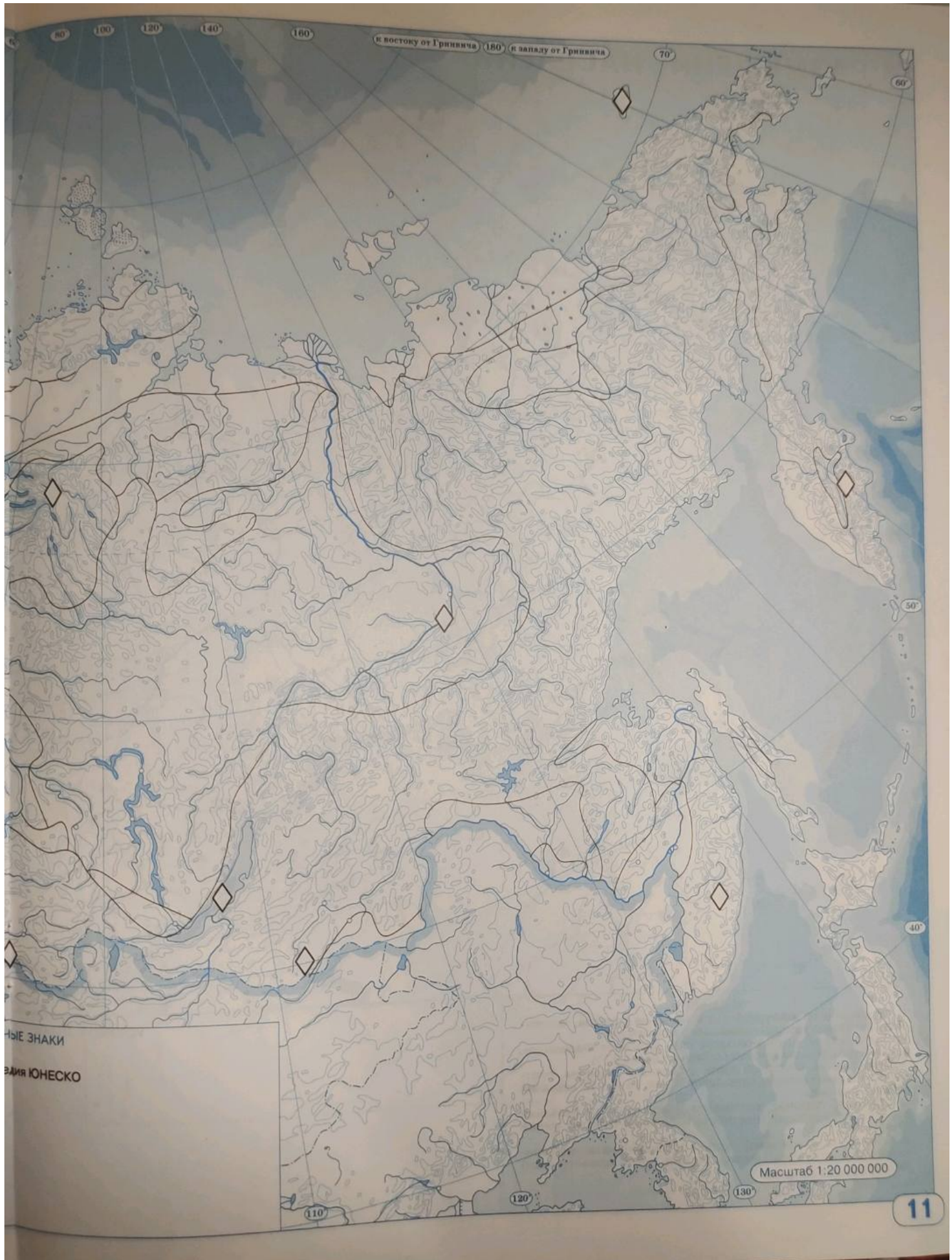


ЗАДАНИЯ

1. Обведите границу зоны тайги. Произвольными условными знаками обозначьте смену видового состава лесов зоны тайги с запада на восток.
2. Штриховкой обозначьте территории распространения смешанных лесов. Подпишите на контурной карте коэффициент увлажнения, который характерен для этой природной зоны.
3. Подпишите по два-три населённых пункта, расположенных в зоне тундры и в степях.
4. Подпишите название природной зоны, в которой вы проживаете. Произвольными условными знаками обозначьте по два-три типичных представителя растительного и животного мира.
5. Определите по описанию объекты Всемирного природного наследия ЮНЕСКО.
А) Эта природная территория находится в Забайкальском крае России. Здесь хорошо сохранились обширные степные ландшафты. Различные виды степей и местные озёра служат ареалом обитания редких и исчезающих птиц.
Б) Этот объект наследия расположен за Северным полярным кругом. Самый знаменитый обитатель этой природоохранной территории — белый медведь. Кроме этого здесь находятся крупнейшие в Арктике лежаща моржей. Подпишите названия этих объектов Всемирного природного наследия на контурной карте.

усло

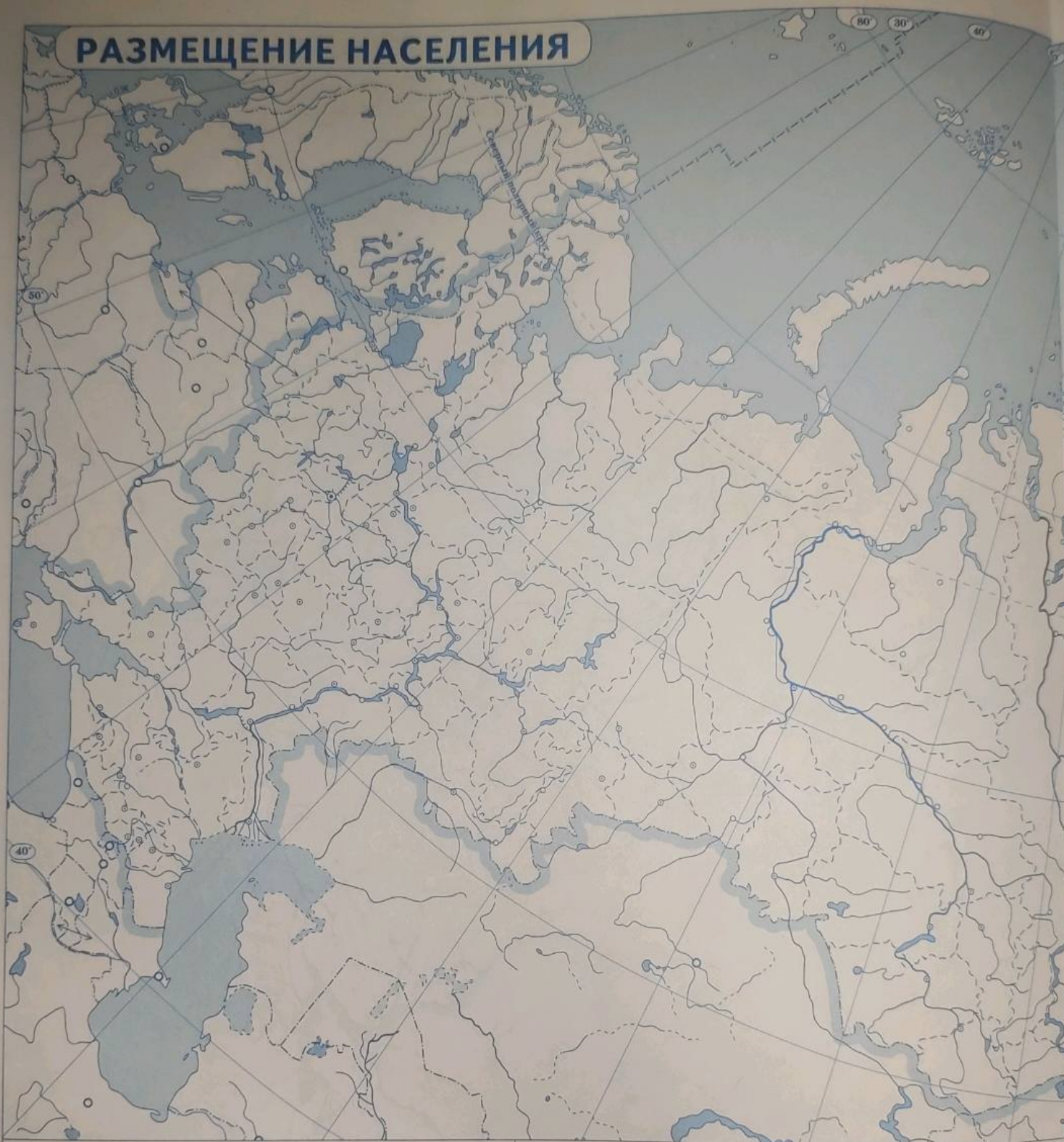
◇ Объекты природного наследия



НЫЕ ЗНАКИ
ДЛЯ ЮНЕСКО

Масштаб 1:20 000 000

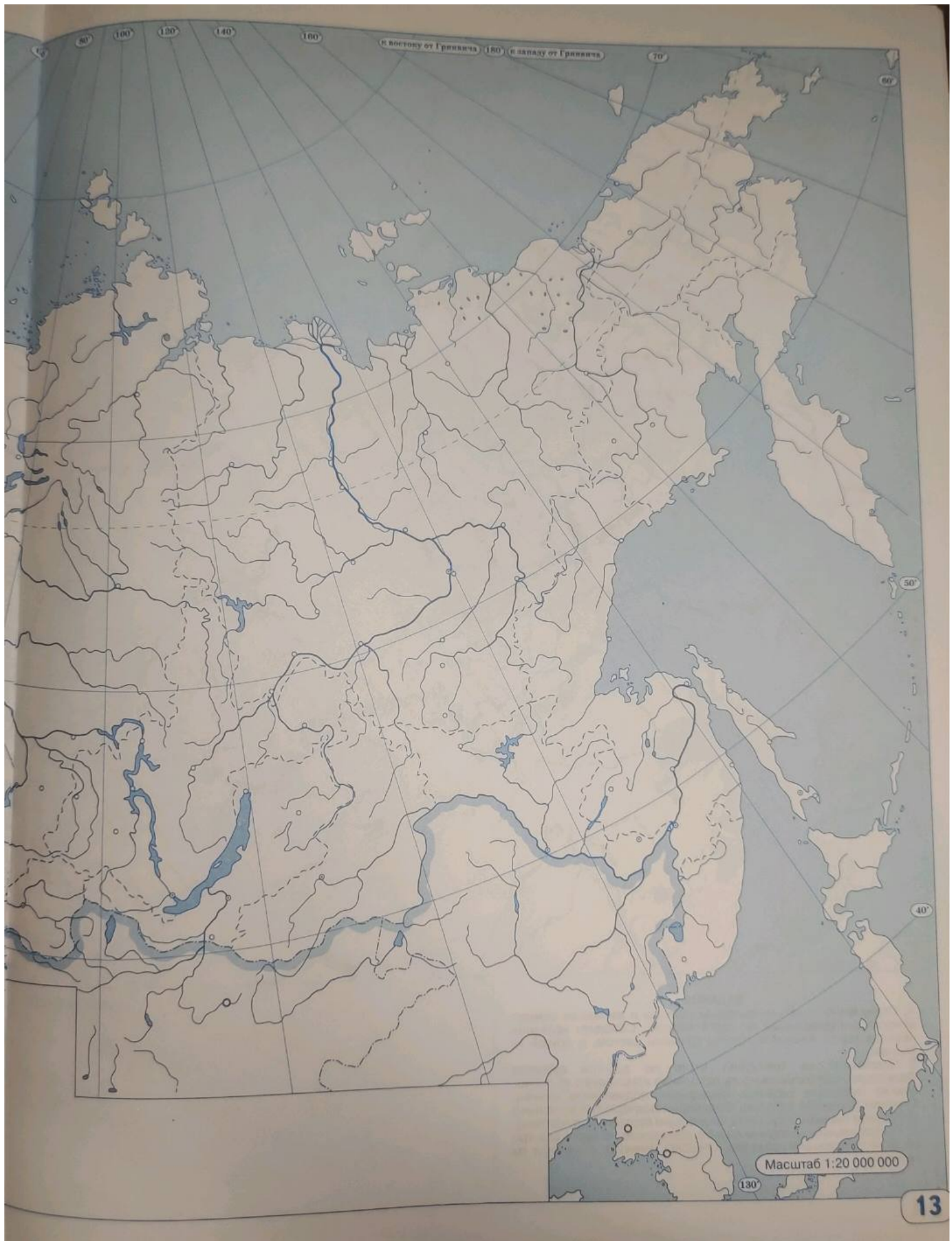
РАЗМЕЩЕНИЕ НАСЕЛЕНИЯ



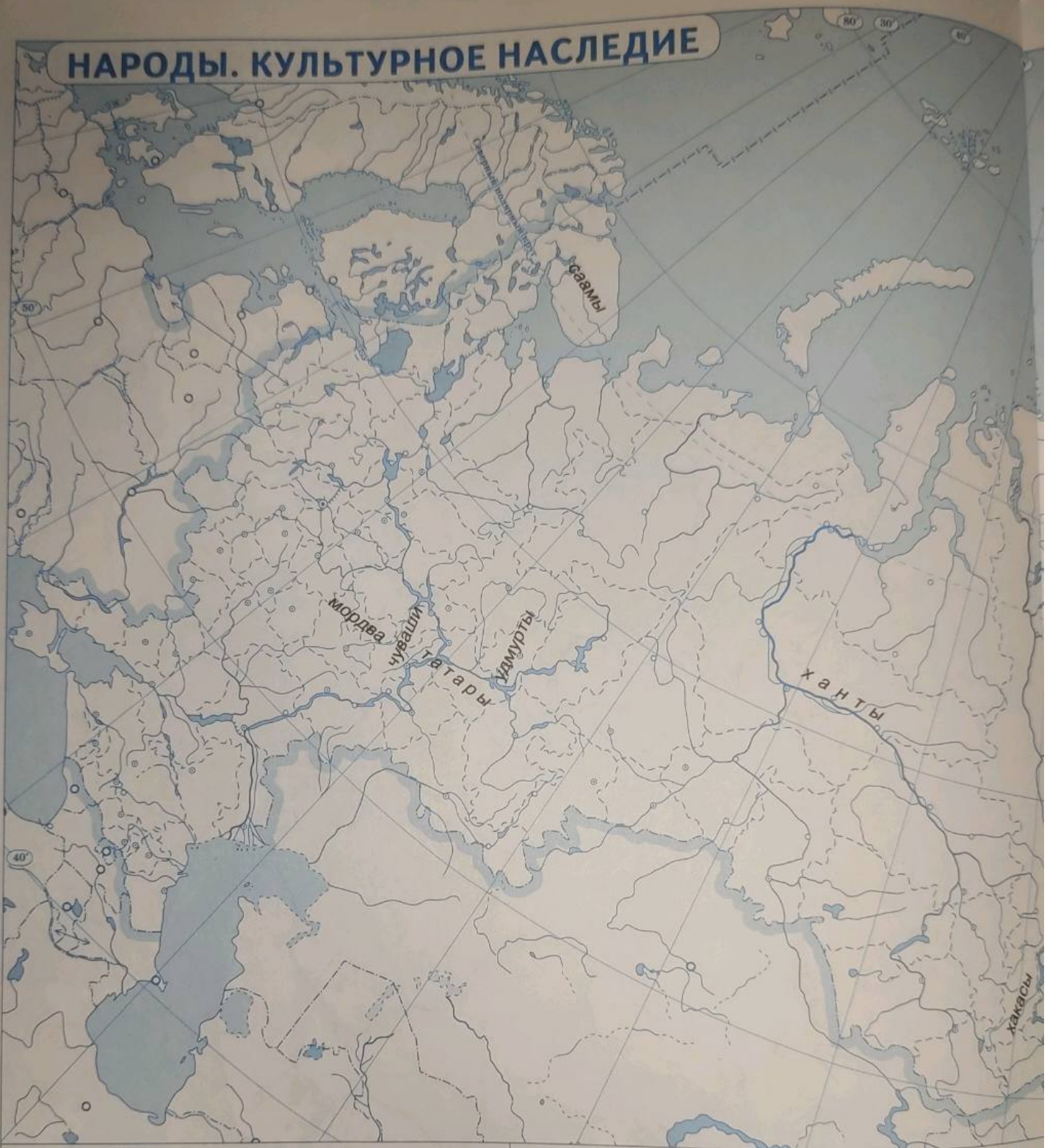
ЗАДАНИЯ

1. Подпишите на контурной карте названия городов, численность населения которых превышает 1 млн человек.
2. Подпишите на контурной карте пять субъектов Федерации, уровень урбанизации которых составляет более 80 %.
3. Закрасьте на контурной карте субъекты Федерации, плотность населения которых превышает 50 чел. на км². Их названия укажите в легенде.
4. Обведите границы, подпишите и подчеркните названия субъектов Федерации, плотность населения которых менее 1 чел. на км².
5. Обозначьте на контурной карте и подпишите название своего населённого пункта. В легенде укажите тип поселения и число жителей.

УСЛОВНЫЕ ЗНАКИ



НАРОДЫ. КУЛЬТУРНОЕ НАСЛЕДИЕ



ЗАДАНИЯ

1. Определите, к каким языковым группам и языковым семьям относятся подписанные на карте народы. Обведите названия народов одной языковой группы красным цветом, а другой — чёрным.
2. Подпишите на контурной карте по два-три субъекта Федерации, где большая часть населения исповедует: а) православие (название субъекта Федерации подчеркните синим); б) ислам (название субъекта Федерации подчеркните зелёным); в) буддизм (название субъекта Федерации подчеркните жёлтым).
3. Произвольным условным знаком обозначьте на карте два-три объекта культурного наследия ЮНЕСКО. Укажите в легенде их названия.

УСЛОВНЫЕ ЗНАКИ



РОССИЙСКАЯ ФЕДЕРАЦИЯ

16



СОДЕРЖАНИЕ

Страницы		Масштаб
1	ГЕОГРАФИЧЕСКОЕ ПОЛОЖЕНИЕ РОССИИ	1: 30 000 000
2—3	АДМИНИСТРАТИВНО-ТЕРРИТОРИАЛЬНОЕ УСТРОЙСТВО ..	1: 20 000 000
4—5	РЕЛЬЕФ, ТЕКТОНИЧЕСКОЕ СТРОЕНИЕ И ПОЛЕЗНЫЕ ИСКОПАЕМЫЕ	1: 20 000 000
6—7	КЛИМАТИЧЕСКИЕ ПОЯСА И ОБЛАСТИ	1: 20 000 000
8—9	ВНУТРЕННИЕ ВОДЫ	1: 20 000 000
10—11	ПРИРОДНЫЕ ЗОНЫ	1: 20 000 000
12—13	РАЗМЕЩЕНИЕ НАСЕЛЕНИЯ	1: 20 000 000
14—15	НАРОДЫ. КУЛЬТУРНОЕ НАСЛЕДИЕ	1: 20 000 000
16	РОССИЙСКАЯ ФЕДЕРАЦИЯ	1: 30 000 000

Политическое устройство мира отражено на картах по состоянию на октябрь 2022 г.

УДК 373.167.1:91(084)

ББК 26.82я6

Г35

12

Учебное издание

ГЕОГРАФИЯ

8 класс

Контурные карты

Контурные карты составлены и подготовлены к изданию АО «Издательство «Просвещение»

Редакторы *Н. В. Ольховая, А. Н. Приваловский*

Картограф *Е. Г. Волкова*

Компьютерная вёрстка *Е. Г. Волкова*

Технический редактор *А. А. Боровикова*

Корректор *Г. И. Мосякина*

Оформление обложки *Т. А. Гущина*

Подписано в печать 25.01.2023. Формат 60x90/8. Гарнитура «Прагматика».

Усл. печ. л. 2,0. Тираж 150000 экз.

Заказ № 23-0632ППЛ

Акционерное общество «Издательство «Просвещение».

Российская Федерация, 127473, г. Москва, ул. Краснопролетарская, д. 16, стр. 3, этаж 4, помещение I.

Адрес электронной почты «Горячей линии» — vopros@prosv.ru

Отпечатано в типографии «АО «ПК«Пушкинская площадь»

109548, Россия, г. Москва, ул. Шоссейная дом.4Д

тел (495) 276 16 06, e-mail: print@pkpp.ru

ISBN 978-5-09-105935-9

© Картографическая основа. Росреестр, 2014

© АО «Издательство «Просвещение», 2021

© Художественное оформление.

АО «Издательство «Просвещение», 2021

Все права защищены